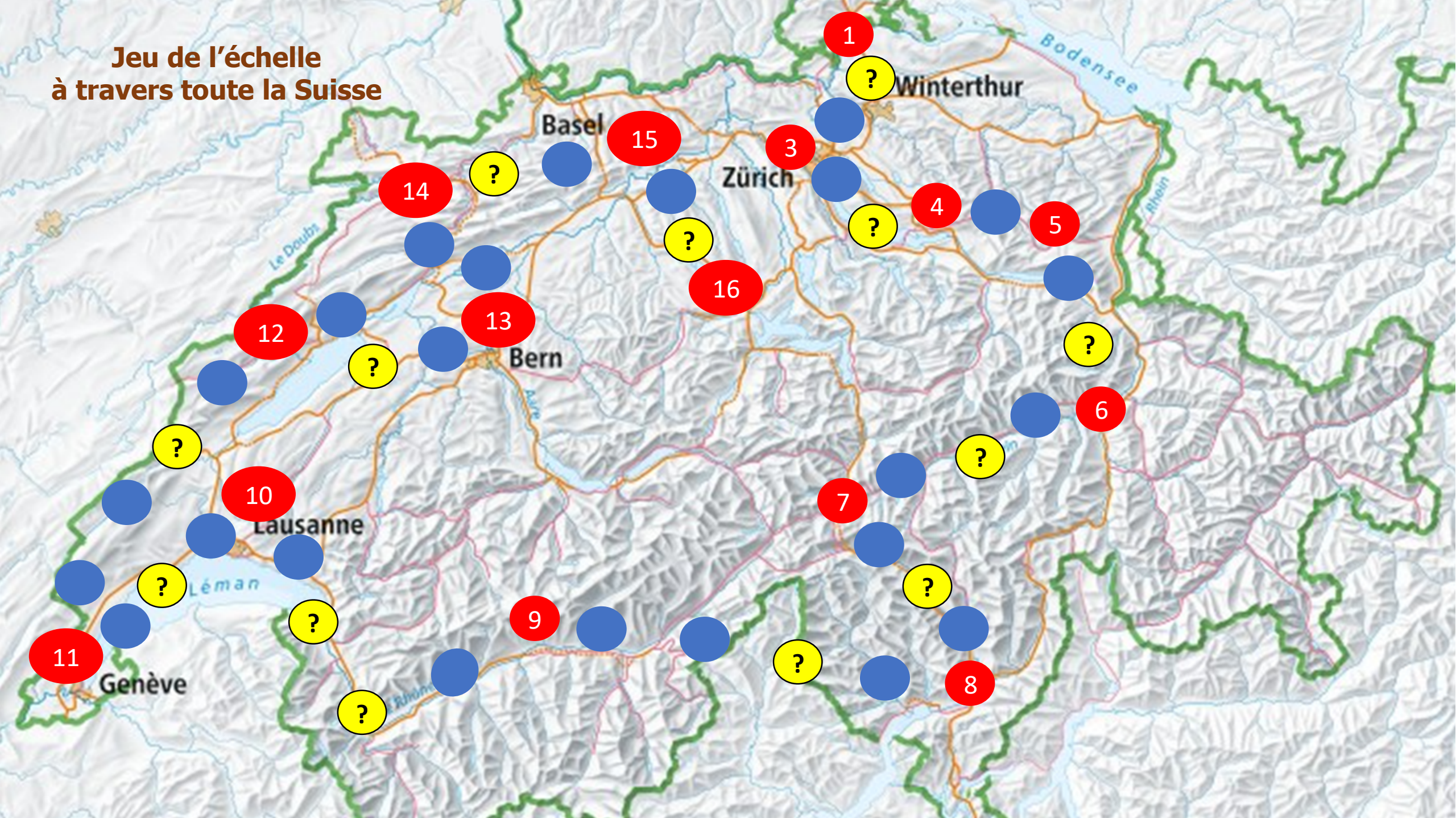


# Jeu de l'échelle à travers toute la Suisse



# Cartes d'événement :

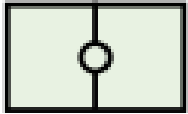


<b>SCHAFFHOUSE (1)</b>  C'EST PARTI ! LANCE LE DÉ ET AVANCE	<b>ZURICH (2)</b>  TU AS DE LA CHANCE ! TU AVANCES DIRECTEMENT DE ZURICH À COIRE	<b>RAPPERSWIL (3)</b>  VISITE TRANQUILLEMENT RAPPERSWIL ET PASSE UN TOUR	<b>SAINT-GALL (4)</b>  TU PRENDS UN RACCOURCI ET PASSES DIRECTEMENT À LOCARNO
<b>COIRE (5)</b>  DEPUIS COIRE, TU FAIS UNE EXCURSION EN MONTAGNE. PASSE UN TOUR.	<b>GOTHARD (6)</b>  OH NON ! TU AS OUBLIÉ QUELQUE CHOSE À COIRE. REVIENS EN ARRIÈRE.	<b>LOCARNO (7)</b>  IL PLEUT AU TESSIN, REPARS VITE ! LANCE DE NOUVEAU LE DÉ.	<b>SION (8)</b>  TU ADMIRES LES MONTAGNES VALAISANNES AUTOUR DE SION. RECULE D'UNE CASE POUR AVOIR UNE MEILLEURE VUE.

<p><b>LAUSANNE (9)</b></p> <p>TU AS OUBLIÉ TON PORTE-MONNAIE À SION ! REVIENS EN ARRIÈRE POUR LE CHERCHER.</p>	<p><b>GENÈVE (10)</b></p> <p>GENÈVE EST TROP ANIMÉ POUR TOI. AVANCE DE DEUX CASES.</p>	<p><b>NEUCHÂTEL (11)</b></p> <p>TON SAC À DOS EST TOMBÉ DANS LE LAC. RECULE DE DEUX CASES.</p>	<p><b>BERNE (12)</b></p> <p>IL Y A BEAUCOUP À VOIR DANS LA CAPITALE. PASSE UN TOUR.</p>
<p><b>DELÉMONT (13)</b></p> <p>TU ATTRAPES LA CORRESPONDANCE JUSTE À TEMPS ! AVANCE À BÂLE.</p>	<p><b>BÂLE (14)</b></p> <p>TU T'ES PERDU EN VILLE. PASSE UN TOUR.</p>	<p><b>LUCERNE (15)</b></p> <p>TU ES À DESTINATION ! BRAVO 😊</p>	

# CARTES DE QUESTIONS

<p>De quel point de vue (perspective) les cartes sont-elles généralement dessinées ?</p>	<p>Explique brièvement ce que sont les signatures.</p>	<p>Cite deux signatures que tu connais.</p>	<p>Nomme quelque chose qui n'est pas marqué sur les cartes.</p>
<p>Nomme quelque chose qui est marqué en bleu sur les cartes.</p>	<p>Pourquoi avons-nous besoin de cartes ? Cite un exemple.</p>	<p>Qu'est-ce qui est important quand on dessine une carte ?</p>	<p>Quel est le nom du perroquet de Barbe Brune ?</p>

# Fragekärtchen

<p>Si tout ce qui se trouve sur une carte est 100 fois plus petit que dans la réalité, quelle est la longueur d'une distance de 100 mètres sur la carte ?</p>	<p>Quel outil peut être utilisé pour déterminer les points cardinaux ?</p>	<p>Quels sont les 4 points cardinaux ?</p>	<p>Quel est le point faible de Barbe Brune ?</p>
<p>Que signifie cette signature ?</p> 	<p>Que signifie cette signature ?</p> 	<p>Que signifie cette signature ?</p> 	<p>Que signifie cette signature ?</p> 